

Единый государственный экзамен по МАТЕМАТИКЕ

Вариант № 122

Инструкция по выполнению работы

На выполнение экзаменационной работы по математике даётся 4 часа (240 мин). Работа состоит из двух частей и содержит 18 заданий.

Часть 1 содержит 12 заданий с кратким ответом (В1–В12) базового уровня по материалу курса математики. Задания части 1 считаются выполненными, если экзаменуемый дал верный ответ в виде целого числа или конечной десятичной дроби.

Часть 2 содержит 6 более сложных заданий (С1–С6) по материалу курса математики. При их выполнении надо записать полное решение и ответ.

Советуем для экономии времени пропускать задание, которое не удаётся выполнить сразу, и переходить к следующему. К выполнению пропущенных заданий вы сможете вернуться, если у вас останется время.

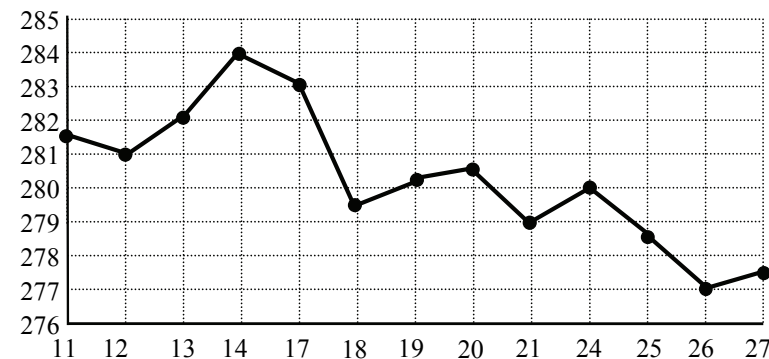
Желаем успеха!

Часть 1

Ответом к заданиям этой части (В1–В12) является целое число или конечная десятичная дробь. Ответ следует записать в бланк ответов № 1 справа от номера соответствующего задания, начиная с первой клеточки, без пробелов. Каждую цифру, знак минус и запятую пишите в отдельной клеточке в соответствии с приведёнными в бланке образцами. Единицы измерения писать не нужно.

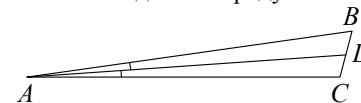
В1 Сырок стоит 6 рублей 50 копеек. Какое наибольшее число сырков можно купить на 60 рублей?

В2 На рисунке жирными точками показана цена золота на момент закрытия биржевых торгов во все рабочие дни с 11 по 27 июля 2000 года. По горизонтали указываются числа месяца, по вертикали — цена унции золота в долларах США. Для наглядности жирные точки на рисунке соединены линией. Определите по рисунку наибольшую цену золота на момент закрытия торгов в указанный период (в долларах США за унцию).



В3 Найдите корень уравнения $\sqrt{42 - 2x} = 2$.

В4 В треугольнике ABC AD — биссектриса, угол C равен 105° , угол CAD равен 2° . Найдите угол B . Ответ дайте в градусах.

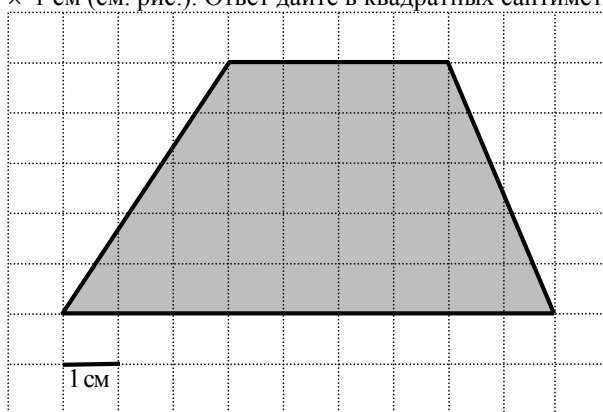


B5 В таблице указаны средние цены (в рублях) на некоторые основные продукты питания в трёх городах России (по данным на начало 2010 года).

Наименование продукта	Кострома	Краснодар	Петрозаводск
Пшеничный хлеб (батон)	11	14	13
Молоко (1 литр)	26	23	26
Картофель (1 кг)	17	12	14
Сыр (1 кг)	240	265	230
Мясо (говядина, 1 кг)	285	280	280
Подсолнечное масло (1 литр)	52	44	38

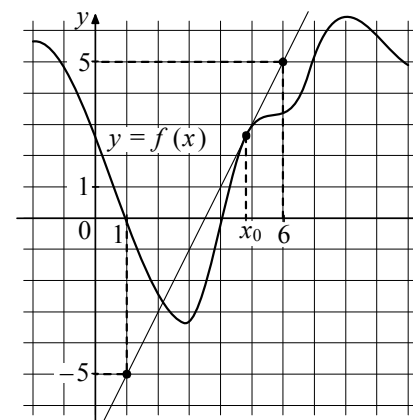
Определите, в каком из этих городов окажется самым дешёвым следующий набор продуктов: 3 л молока, 1 кг говядины, 1 л подсолнечного масла. В ответ запишите стоимость данного набора продуктов в этом городе (в рублях).

B6 Найдите площадь трапеции, изображённой на клетчатой бумаге с размером клетки 1 см × 1 см (см. рис.). Ответ дайте в квадратных сантиметрах.

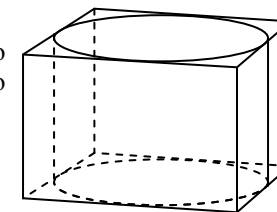


B7 Найдите $\sin \alpha$, если $\cos \alpha = \frac{\sqrt{19}}{10}$ и $\alpha \in \left(\frac{3\pi}{2}; 2\pi\right)$.

B8 На рисунке изображены график функции $y = f(x)$ и касательная к нему в точке с абсциссой x_0 . Найдите значение производной функции $f(x)$ в точке x_0 .



B9 Прямоугольный параллелепипед описан около цилиндра, радиус основания и высота которого равны 2. Найдите объём параллелепипеда.



B10 В ходе распада радиоактивного изотопа его масса уменьшается по закону $m(t) = m_0 \cdot 2^{-\frac{t}{T}}$, где m_0 (мг) — начальная масса изотопа, t (мин.) — время, прошедшее от начального момента, T (мин.) — период полураспада. В начальный момент времени масса изотопа $m_0 = 250$ мг. Период его полураспада $T = 3$ мин. Через сколько минут масса изотопа будет равна 31,25 мг?

B11 Найдите наименьшее значение функции $y = x^3 + 6x^2 + 9x + 21$ на отрезке $[-3; 0]$.

B12 Из пункта A в пункт B , расстояние между которыми 50 км, одновременно выехали мотоциклист и велосипедист. Известно, что за час мотоциклист проезжает на 30 км больше, чем велосипедист. Определите скорость велосипедиста, если известно, что он прибыл в пункт B на 1,5 часа позже мотоциклиста. Ответ дайте в км/ч.

Часть 2

Для записи решений и ответов на задания C1–C6 используйте бланк ответов № 2. Запишите сначала номер выполняемого задания (C1, C2 и т.д.), а затем полное обоснованное решение и ответ.

C1 Решите уравнение $(2\cos^2 x - 5\cos x + 2) \cdot \log_{11}(-\sin x) = 0$.

C2 В правильной шестиугольной призме $ABCDEF A_1 B_1 C_1 D_1 E_1 F_1$, стороны основания которой равны 4, а боковые рёбра равны 3, найдите расстояние от точки B до прямой $C_1 D_1$.

C3 Решите неравенство $11 \cdot \lg(x^2 + 11x + 30) \leq 12 + \lg \frac{(x+6)^{11}}{x+5}$.

C4 Прямая, перпендикулярная гипотенузе прямоугольного треугольника, отсекает от него четырёхугольник, в который можно вписать окружность. Найдите радиус окружности, если отрезок этой прямой, заключённый внутри треугольника, равен 12, а косинус острого угла равен $\frac{3}{5}$.

C5 Найдите все положительные значения a , при каждом из которых система

$$\begin{cases} (|x| - 5)^2 + (y - 4)^2 = 4, \\ (x + 2)^2 + y^2 = a^2 \end{cases}$$

имеет единственное решение.

C6 На доске написано более 36, но менее 48 целых чисел. Среднее арифметическое этих чисел равно -5 , среднее арифметическое всех положительных из них равно 6, а среднее арифметическое всех отрицательных из них равно -12 .

а) Сколько чисел написано на доске?

б) Каких чисел написано больше: положительных или отрицательных?

в) Какое наибольшее количество положительных чисел может быть среди них?

