

Часть 1**Основной государственный экзамен по МАТЕМАТИКЕ****Тренировочный вариант №310****Уровень 1****Инструкция по выполнению работы**

Работа состоит из двух модулей: «Алгебра» и «Геометрия». Всего в работе 25 заданий. Модуль «Алгебра» содержит семнадцать заданий: в части 1 — четырнадцать заданий; в части 2 — три задания. Модуль «Геометрия» содержит восемь заданий: в части 1 — пять заданий; в части 2 — три задания.

На выполнение экзаменационной работы по математике отводится 3 часа 55 минут (235 минут).

Ответы к заданиям 7 и 13 записываются в виде одной цифры, которая соответствует номеру правильного ответа. Эту цифру запишите в поле ответа в тексте работы.

Для остальных заданий части 1 ответом является число или последовательность цифр, которые нужно записать в поле ответа в тексте работы. Если в ответе получена обыкновенная дробь, обратите её в десятичную.

Решения заданий части 2 и ответы к ним запишите на отдельном листе или бланке. Задания можно выполнять в любом порядке, начиная с любого модуля. Текст задания переписывать не надо, необходимо только указать его номер.

Сначала выполняйте задания части 1. Начать советуем с тех заданий, которые вызывают у Вас меньше затруднений, затем переходите к другим заданиям. Для экономии времени пропускайте задание, которое не удаётся выполнить сразу, и переходите к следующему. Если у Вас останется время, Вы сможете вернуться к пропущенным заданиям.

При выполнении части 1 все необходимые вычисления, преобразования и т.д. выполняйте в черновике. Записи в черновике не учитываются при оценивании работы. Если задание содержит рисунок, то на нём непосредственно в тексте работы можно выполнять необходимые Вам построения. Рекомендуем внимательно читать условие и проводить проверку полученного ответа.

При выполнении работы Вы можете воспользоваться справочными материалами.

Баллы, полученные Вами за выполненные верно задания, суммируются. Постарайтесь выполнить как можно больше заданий и набрать наибольшее количество баллов.

Желаем успеха!

Ответами к заданиям 1 – 19 являются цифра, число или последовательность цифр, которые следует вписать в БЛАНК ОТВЕТОВ №1 справа от номера соответствующего задания, начиная с первой клеточки. Если ответом является последовательность цифр, то запишите её без пробелов, запятых и других дополнительных символов. Каждый символ пишите в отдельной клеточке в соответствии с приведенными в бланке образцами.

Модуль «Алгебра»**Прочитайте внимательно текст и выполните задания 1-5**

Класс на начало годового срока страхования	Коэффициент КБМ	Класс по окончании годового срока страхования с учётом наличия (отсутствия) страховых выплат				
		0 страховых выплат	1 страховая выплата	2 страховые выплаты	3 страховые выплаты	4 страховые выплаты
М	2,45	0	М	М	М	М
0	2,3	1	М	М	М	М
1	1,55	2	М	М	М	М
2	1,4	3	1	М	М	М
3	1	4	1	М	М	М
4	0,95	5	2	1	М	М
5	0,9	6	3	1	М	М
6	0,85	7	4	2	М	М
7	0,8	8	4	2	М	М
8	0,75	9	5	2	М	М
9	0,7	10	5	2	1	М
10	0,65	11	6	3	1	М
11	0,6	12	6	3	1	М
12	0,55	13	6	3	1	М
13	0,5	13	7	3	1	М

Каждый водитель в Российской Федерации должен быть застрахован по программе обязательного страхования гражданской ответственности (ОСАГО). Стоимость полиса

получается умножением базового тарифа на несколько коэффициентов. Коэффициенты зависят от водительского стажа, мощности автомобиля, количества предыдущих страховых выплат и других факторов.

Коэффициент бонус-малус (КБМ) зависит от класса водителя. Это коэффициент, понижающий или повышающий стоимость полиса в зависимости от количества дорожно-транспортных происшествий (ДТП) в предыдущий год. Сначала водителю присваивается класс 3. Срок действия полиса, как правило, один год. Каждый последующий год класс водителя присваивается в зависимости от числа страховых выплат в течение истекшего года, в соответствии с таблицей (см. таблицу выше).

Коэффициент возраста и водительского стажа (КВС) также влияет на стоимость полиса (см. таблицу ниже).

Возраст (лет)	Водительский стаж (лет)							
	0	1	2	3-4	5-6	7-9	10-14	более 14
16-21	1,87	1,87	1,87	1,66	1,66	–	–	–
22-24	1,77	1,77	1,77	1,04	1,04	1,04	–	–
25-29	1,77	1,69	1,63	1,04	1,04	1,04	1,01	–
30-34	1,63	1,63	1,63	1,04	1,01	1,04	0,96	0,96
35-39	1,63	1,63	1,63	0,99	0,96	0,96	0,96	0,96
40-49	1,63	1,63	1,63	0,96	0,96	0,96	0,96	0,96
50-59	1,63	1,63	1,63	0,96	0,96	0,96	0,96	0,96
старше 59	1,6	1,6	1,6	0,93	0,93	0,93	0,93	0,93

1. Игорь страховал свою гражданскую ответственность три года. В течение первого года была сделана одна страховая выплата, после этого выплат не было. Какой класс будет присвоен Игорю на начало четвёртого года страхования?

Ответ: _____.

2. Чему равен КБМ на начало четвёртого года страхования?

Ответ: _____.

3. Когда Игорь получил водительские права и впервые оформил полис, ему было 22 года. Чему равен КВС на начало 4-го года страхования?

Ответ: _____.

4. В начале третьего года страхования Игорь заплатил за полис 18 585 руб. Во сколько рублей обойдётся Игорю полис на четвёртый год, если значения других коэффициентов (кроме КБМ и КВС) не изменятся?

Ответ: _____.

5. Игорь въехал на участок дороги протяжённостью 2,6 км с камерами, отслеживающими среднюю скорость движения. Ограничение скорости на дороге — 100 км/ч. В начале и в конце участка установлены камеры, фиксирующие номер автомобиля и время проезда. По этим данным компьютер вычисляет среднюю скорость на участке. Игорь въехал на участок в 11:10:33, а покинул его в 11:11:51. Нарушил ли Игорь скоростной режим? Если да, на сколько км/ч средняя скорость на данном участке была выше разрешённой?

Ответ: _____.

6. Запишите десятичную дробь, равную сумме $3 \cdot 10^{-1} + 8 \cdot 10^{-2} + 8 \cdot 10^{-4}$.

Ответ: _____.

7. На координатной прямой отмечены точки $A(a)$ и $B(b)$. Какое из выражений наименьшее? В ответе запишите номер правильного варианта ответа.



1) $a+b$

2) $2b$

3) a^2

4) $-b$

Ответ: _____.

8. Найдите значение выражения $\frac{28}{4a-a^2} - \frac{7}{a}$ при $a = -3$.

Ответ: _____.

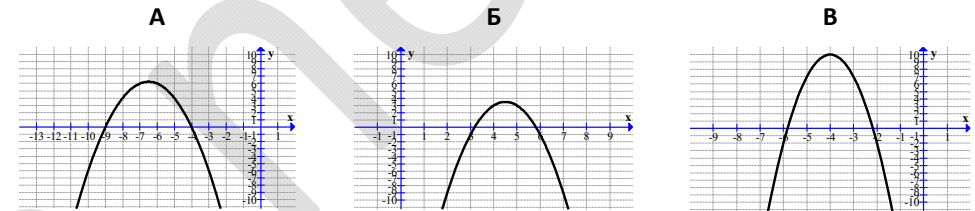
9. Решите уравнение: $1 - 2(5 - 2x) = -x - 3$.

Ответ: _____.

10. Игральную кость бросают дважды. Найдите вероятность того, что наименьшее из двух выпавших чисел равно 2.

Ответ: _____.

11. Ниже представлены графики функций вида $y = ax^2 + bx + c$ и значения коэффициентов c . Установите соответствие между графиками функций и значениями коэффициентов c . В ответе укажите последовательность цифр, соответствующих А, Б, В, без пробелов, запятых и других разделительных символов.



1) -38

2) -36

3) -37

Ответ: _____.

12. Расстояние s (в метрах) до места удара молнии можно приближённо вычислить по формуле $s = 330t$, где t – количество секунд, прошедших между вспышкой молнии и ударом грома. Определите, на каком расстоянии от места удара молнии находится наблюдатель, если $t = 9$ с. Ответ дайте в километрах, округлив его до целых.

Ответ: _____.

13. Решите неравенство $3 - x \geq x - 6$. В ответе запишите номер правильного варианта ответа.

1) $(-\infty; 1,5]$

2) $[1,5; +\infty)$

3) $(-\infty; 4,5]$

4) $[4,5; +\infty)$

Ответ: _____.

14. Давление воздуха под колоколом равно 625 мм ртутного столба. Каждую минуту насос откачивает из-под колокола 20% находящегося там воздуха. Определите давление (в мм рт. ст.) через 5 минут после начала работы насоса.

Ответ: _____.

Модуль «Геометрия»

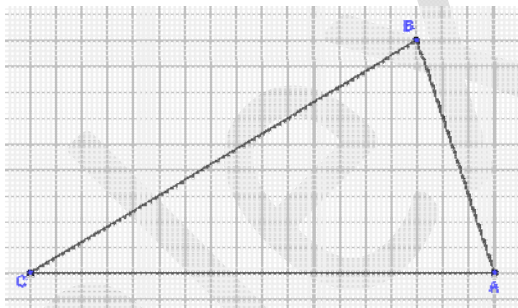
15. Площадь равнобедренного треугольника равна $4\sqrt{3}$. Угол, лежащий напротив основания равен 120° . Найдите длину боковой стороны.

Ответ: _____.

16. Окружность с центром на стороне AC треугольника ABC проходит через вершину C и касается прямой AB в точке B . Найдите AC , если диаметр окружности равен 6,4, а $AB = 6$.

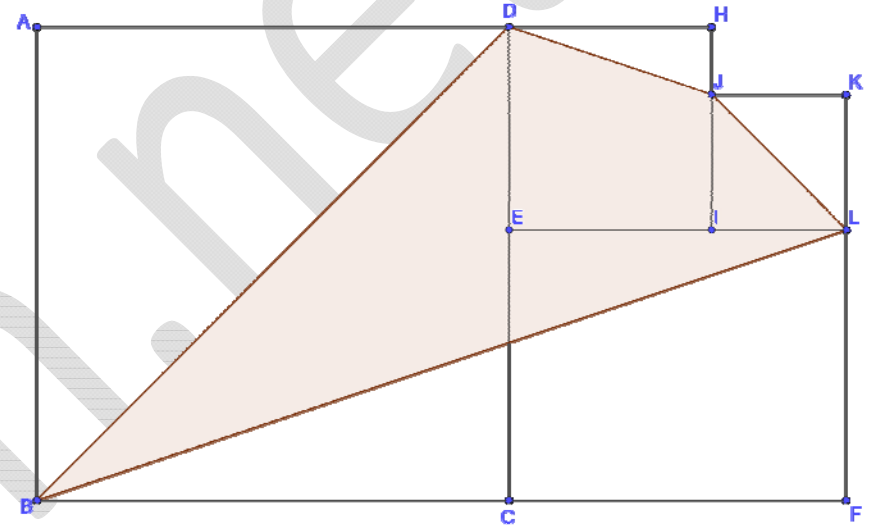
Ответ: _____.

17. Дан треугольник ABC (см. рис.). Найдите тангенс угла ACB .



Ответ: _____.

18. Даны четыре квадрата $ABCD$, $CFLE$, $EIHD$ и $ILKJ$ (см. рис.), сумма площадей которых равна 87. Найдите площадь четырёхугольника $BDJL$.



Ответ: _____.

19. Какие из следующих утверждений верны? Если верных утверждений несколько, запишите их номера в порядке возрастания без пробелов, запятых и других разделительных символов.

- 1) Если два угла одного треугольника равны двум углам другого треугольника, то такие треугольники подобны.
- 2) Сумма углов прямоугольного треугольника равна 90 градусам.
- 3) Каждая из биссектрис равнобедренного треугольника является его медианой.

Ответ: _____.

Часть 2

При выполнении заданий 20–25 используйте бланк ответов №2. Сначала укажите номер задания, а затем запишите его решение и ответ. Пишите чётко и разборчиво. Обращаем Ваше внимание на то, что записи в черновике не будут учитываться при оценивании работы.

Модуль «Алгебра»

20. Решите неравенство $(4x - 7)^2 \geq (7x - 4)^2$.

21. Баржа прошла по течению реки 32 км и, повернув обратно, прошла ещё 24 км, затратив на весь путь 4 часа. Найдите собственную скорость (в км/ч) баржи, если скорость течения реки равна 5 км/ч.

22. Постройте график функции $y = \frac{1}{2} \left(\left| \frac{x-2}{2} - \frac{2}{x} \right| + \frac{x+2}{2} + \frac{2}{x} \right)$. Определите, при каких значениях a прямая $y = a$ имеет с графиком ровно одну общую точку.

Модуль «Геометрия»

23. Биссектриса угла A параллелограмма $ABCD$ пересекает его сторону BC в точке E . Найдите площадь параллелограмма $ABCD$, если $BE = 5$, $CE = 2$, а $\angle ABC = 150^\circ$.

24. В параллелограмме проведены биссектрисы противоположных углов. Докажите, что отрезки биссектрис, заключённые внутри параллелограмма, равны.

25. Углы при одном из оснований трапеции равны 39° и 51° , а отрезки, соединяющие середины противоположных сторон трапеции, равны 19 и 3. Найдите большее основание трапеции.