

Часть 1

Единый государственный экзамен по МАТЕМАТИКЕ
Тренировочный вариант № 70

Инструкция по выполнению работы

На выполнение заданий варианта КИМ по математике даётся 3 часа 55 минут (235 минут). Работа состоит из двух частей, включающих в себя 21 задание.

Часть 1 содержит 10 заданий (задания В1–В10) базового уровня сложности, проверяющих наличие практических математических знаний и умений.

Часть 2 содержит 11 заданий (задания В11–В15 и С1–С6) базового, повышенного и высокого уровней по материалу курса математики средней школы, проверяющих уровень профильной математической подготовки.

Ответом к каждому из заданий В1–В15 является целое число или конечная десятичная дробь. При выполнении заданий С1–С6 требуется записать полное решение и ответ.

Все бланки ЕГЭ заполняются яркими чёрными чернилами. Допускается использование гелевой, капиллярной или перьевой ручки.

При выполнении заданий Вы можете пользоваться черновиком. Обращаем Ваше внимание, что записи в черновике не будут учитываться при оценивании работы.

Советуем выполнять задания в том порядке, как они даны. Для экономии времени пропускайте задание, которое не удаётся выполнить сразу, и переходите к следующему. Если после выполнения всей работы у Вас останется время, Вы сможете вернуться к пропущенным заданиям.

Баллы, полученные Вами за выполненные задания, суммируются. Постарайтесь выполнить как можно больше заданий и набрать наибольшее количество баллов.

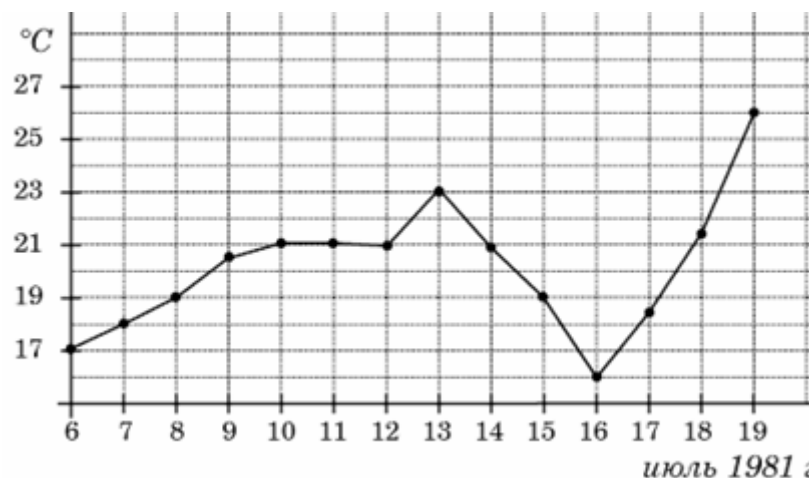
Желаем успеха!

Ответом к заданиям этой части (В1–В10) является целое число или конечная десятичная дробь. Ответ следует записать в бланк ответов № 1 справа от номера соответствующего задания, начиная с первой клеточки, без пробелов. Каждую цифру, знак минус и запятую пишете в отдельной клеточке в соответствии с приведёнными в бланке образцами. Единицы измерения писать не нужно.

В1. Каждый день во время конференции расходуется 70 пакетиков чая. Конференция длится 6 дней. Чай продается в пачках по 50 пакетиков. Сколько пачек нужно купить на все дни конференции?

В2. Тетрадь стоит 24 рубля. Сколько рублей заплатит покупатель за 60 тетрадей, если при покупке больше 50 тетрадей магазин делает скидку 10% от стоимости всей покупки?

В3. На рисунке жирными точками показана среднесуточная температура воздуха в Бресте каждый день с 6 по 19 июля 1981 года. По горизонтали указываются числа месяца, по вертикали – температура в градусах Цельсия. Для наглядности жирные точки соединены линией. Определите по рисунку, сколько дней за указанный период температура была ровно 21°C .

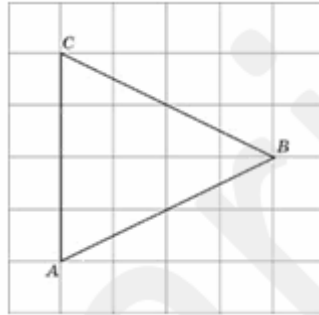


B4. Керамическая плитка одной и той же торговой марки выпускается трёх разных размеров. Плитки упакованы в пачки. Пользуясь данными таблицы, определите, в каком случае цена одного квадратного метра плитки будет наименьшей.

Размер плитки (см × см)	Количество плиток в пачке	Цена пачки
20 × 20	25	604 р.
20 × 30	16	595 р. 20 к.
30 × 30	11	594 р.

В ответ запишите найденную наименьшую цену квадратного метра в рублях.

B5. Найдите радиус окружности, описанной около треугольника ABC , если стороны квадратных клеток равны 1.



B6. Чтобы поступить в институт на специальность «Лингвистика», абитуриент должен набрать на ЕГЭ не менее 70 баллов по каждому из трёх предметов — математика, русский язык и иностранный язык. Чтобы поступить на специальность «Коммерция», нужно набрать не менее 70 баллов по каждому из трёх предметов — математика, русский язык и обществознание. Вероятность того, что абитуриент $З$. получит не менее 70 баллов по математике, равна 0,6, по русскому языку — 0,8, по иностранному языку — 0,7 и по обществознанию — 0,5. Найдите вероятность того, что $З$. сможет поступить хотя бы на одну из двух упомянутых специальностей.

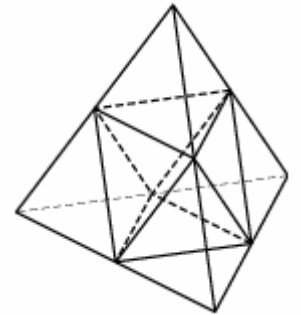
B7. Найдите корень уравнения $(2x + 7)^2 = (2x - 1)^2$.

B8. Угол между двумя соседними сторонами правильного многоугольника, вписанного в окружность, равен 108° . Найдите число вершин многоугольника.

B9. На рисунке изображён график некоторой функции $y = f(x)$. Функция $F(x) = -x^3 - 27x^2 - 240x - 8$ — одна из первообразных функции $f(x)$. Найдите площадь закрашенной фигуры.



B10. Площадь поверхности тетраэдра равна 12. Найдите площадь поверхности многогранника, вершинами которого являются середины рёбер данного тетраэдра.



Часть 2

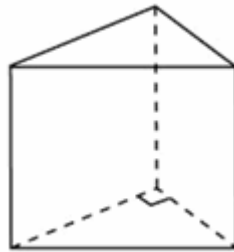
Ответом к заданиям этой части (B11–B15) является целое число или конечная десятичная дробь. Ответ следует записать в бланк ответов № 1 справа от номера соответствующего задания, начиная с первой клеточки, без пробелов. Каждую цифру, знак минус и запятую пишите в отдельной клеточке в соответствии с приведёнными в бланке образцами. Единицы измерения писать не нужно.

B11. Найдите значение выражения $(4x^2 + y^2 - (2x - y)^2) : 2xy$.

B12. Два тела массой $m = 2$ кг каждое, движутся с одинаковой скоростью $v = 10$ м/с под углом 2α друг к другу. Энергия (в джоулях), выделяющаяся при их абсолютно неупругом соударении определяется выражением $Q = mv^2 \sin^2 \alpha$. Под каким

наименьшим углом 2α (в градусах) должны двигаться тела, чтобы в результате соударения выделилось не менее 50 джоулей?

B13. Основанием прямой треугольной призмы служит прямоугольный треугольник с катетами 3 и 5. Объем призмы равен 30. Найдите ее боковое ребро.



B14. Товарный поезд каждую минуту проезжает на 750 метров меньше, чем скорый, и на путь в 180 км тратит времени на 2 часа больше, чем скорый. Найдите скорость товарного поезда. Ответ дайте в км/ч.

B15. Найдите точку максимума функции $y = 2x^2 - 13x + 9 \ln x + 8$.

Для записи решений и ответов на задания C1–C6 используйте бланк ответов № 2. Запишите сначала номер выполняемого задания (C1, C2 и т.д.), а затем полное обоснованное решение и ответ.

C1. а) Решите уравнение $\sqrt{\sin x} = \sqrt{1 - 2\sin^2 x}$

б) Найдите все корни на промежутке $\left[-\frac{3\pi}{2}; \frac{\pi}{2}\right]$

C2. Угол наклона всех боковых граней пирамиды SABС одинаков и равен $\arctg\sqrt{2}$. Основанием пирамиды является прямоугольный треугольник ABC с прямым углом C. Найдите боковую поверхность пирамиды, если $OB = \sqrt{5}$, а радиус вписанной в треугольник ABC окружности равен 1

C3. Решите систему неравенств:

$$\begin{cases} \frac{11 \cdot 3^{x-1} - 31}{4 \cdot 9^x - 11 \cdot 3^{x-1} - 5} \geq 5 \\ \log_{x+1}(x^2 + x - 6) \geq 4 \end{cases}$$

C4. В трапеции ABCD AD и BC – основания, O – точка пересечения диагоналей.

а) Докажите, что выполняется равенство $S_{ABCD} = (\sqrt{S_{AOD}} + \sqrt{S_{BOC}})^2$

б) Найдите площадь трапеции ABCD, если $S_{BOC} = 49, S_{AOD} = 64$.

C5. Найдите все значения параметра a , при которых уравнение

$$|x^2 - 1| + |x^2 - x - 2| = x^2 + 3x + a$$

имеет ровно три решения?

C6. Компьютер может производить одну операцию: брать среднее арифметическое двух целых чисел. Даны три числа: m , n и 0, причем m и n не имеют общих делителей и $m < n$. Докажите, что с помощью компьютера из них можно получить

а) единицу;

б) любое целое число от 1 до n .